



نام و نام خانوادگی :

بسمه تعالی

تاریخ : ۹۷/۱۱/۱۰

نام درس : کار در کلاس

اداره آموزش و پرورش شهرستان بابل

شماره :

پایه : پنجم

آمادگی و دبستان غیر دولتی هوشمند دخترانه مهرگان

تعداد سوال : ۳۹

طراح سوال : معلمان پنجم

((مدرسه ایده آل نسل باشکوه می سازد))

« قرآن و هدیه »

۱- ترجمه ی کلمات داده شده را بنویسید.

آنهار : توپوا : زینه : لیل :

۲- متوکل مرقد کدام امام شیعه را تخریب کرد؟

الف) امام رضا(ع) ب) امام هادی(ع) ج) امام حسین(ع) د) امام علی (ع)

۳- حاکم عباسی امام رضا(ع) را به کدام شهر فرستادند؟

الف)خراسان ب)بغداد ج) سامرا د)نجف

۴- با توجه به سخن امام حسن عسگری بهترین دوست انسان چه کسی است؟

«مطالعات»

۵- قاره های جهان را نام ببرید.

۶- زندگی مردم در نواحی قطبی چگونه است؟

« ادبیات »

۷- در کدام گزینه واژه ها به ترتیب الفبایی نوشته شده اند؟

الف) استقرار - استمرار - استماع ب) اعتبار - اعتماد - اعتدال
ج) طراوت - طنین - طریقت د) منسجم - منفعت - منهدم

۸- با توجه به متن داده شده، جدول زیر را کامل کنید.

« امید به میز چوبی تکیه داده بود و پیر مرد روی صندلی دکان نشست و غرق تفکر در نوشته شد.»

مخالف	هم معنی	هم خانواده ی تفکر	ترکیب	شخص	فعل
چوبی	غرق			
پیر مرد	دکان			
				

۹- با توجه به کلمه های زیر اسم ساده و غیر ساده را مشخص کنید.

ایستگاه : آگاه :

امیدوار : خوشبخت :

۱۰- عبارت و بیت زیر از چند جمله تشکیل شده است؟

• خدایا، ای بینای شنوا، ای دانای توانا ما را به راه راست هدایت فرما تا جز تو نپرستیم و تا زنده هستیم جز کارهای ناشایسته انجام ندهیم.

• آدمی را اگر هنر باشد / به که تا مال و سیم و زر باشد

« علوم »

۱۱- کدام قسمت چشم میزان نور ورودی به چشم را تنظیم می کند؟

الف) شبکیه ب) قرینه ج) عنیه د) عدسی

۱۲- عصب شنوایی، از کدام قسمت گوش پیام به مغز می رساند؟

الف) بخش حلزونی ب) پرده ی صماخ ج) گوش میانی د) لاله ی گوش

۱۳- مزه ی کدام یک از مواد زیر را سریع تر احساس می کنیم؟

الف) آب میوه ب) پیتزا ج) حلیم داغ د) برنج پخته

۱۴- سلول های گیرنده ی بویایی در کدام قسمت بینی قرار دارند؟

الف) در قسمت ابتدای بینی ب) در قسمت بالای بینی

ج) در همه جای بینی د) بر روی موهای ریز داخل بینی

۱۵- تعداد گیرنده های لمس در کدام بخش بیشتر است؟

الف) کف پا ب) کف دست

ج) پشت دست د) نوک انگشتان اشاره

۱۶- راه های مراقبت از پوست را بنویسید. (ذکر ۳ مورد)

« ریاضی »

۱۷- کسرهای داده شده را به اعداد اعشاری تبدیل کنید.

$$\frac{873}{10} =$$

$$\frac{15}{1000} =$$

$$\frac{4}{5} =$$

$$\frac{274}{100} =$$

۱۸- نمایش گسترده را به عدد اعشاری و عدد اعشاری را گسترده بنویسید.

$$6/283 =$$

$$20 + 0/09 + 0/007 + 0/1 + 5 =$$

۱۹- اعداد داده شده را به رقم بنویسید.

- چهار صد و هفت و هشت دهم

- چهل عدد صحیح و چهار صدم

۲۰- هر جفت از اعداد داده شده را مقایسه کنید .

$$0/8 \quad \square \quad 0/795$$

$$3/951 \quad \square \quad 4$$

$$97/1 \quad \square \quad 97/100$$

۲۱- برای هر جفت از اعداد داده شده یک جمع و یک تفریق بنویسید و حاصل را بدست آورید.

$$6/49 \text{ و } 0/781$$

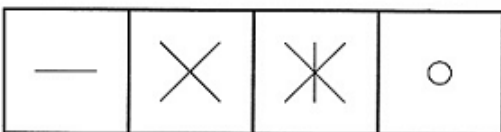

$$3/84 \text{ و } 1/02$$

.....
 + -

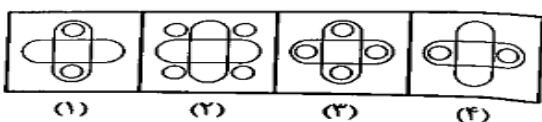
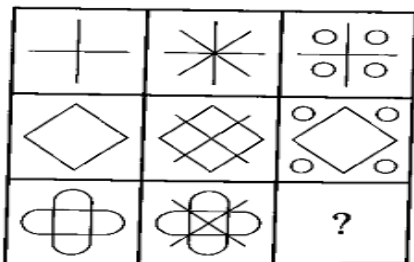
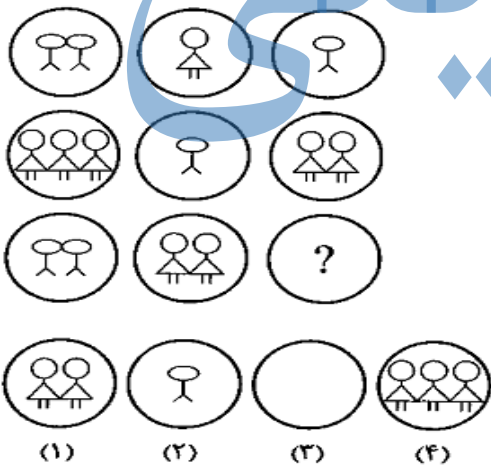
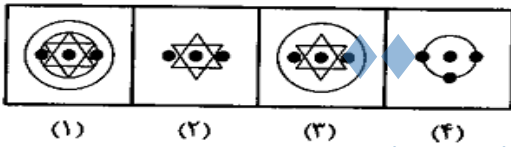

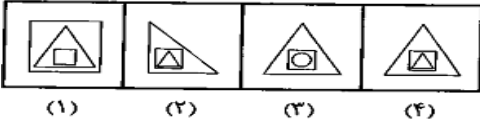
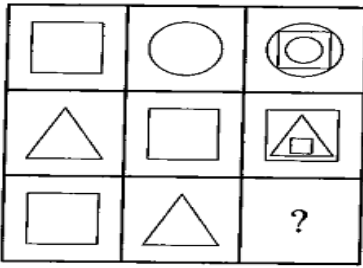
 + -

« استعداد تحصیلی »

۳۵- در سوال های زیر با توجه به الگوی موجود در تصویرهای جدول، کدام یک از تصویرهای پاسخ، آن را کامل می کند؟



(۱) (۲) (۳) (۴)



جزوه سیستمی



جزوه سیستمی

جزوه سیستمی